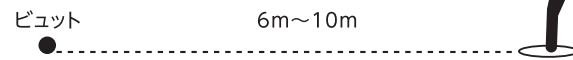


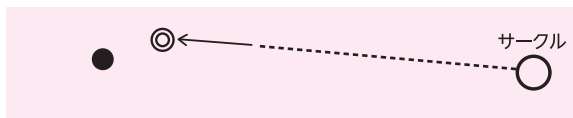
ゲームの進め方

1 ジャンケン、トスなどで勝ったAチームの1人がスタート地点となるところに直径35cm～50cmのサークルを描き、その中に立ち、6m～10mの距離に標的となるビュットを投げます。



[注 意] ビュットが6m以下または10m以上で止まった時は無効となり、投げ直しをします。3回まで投げ直しをして、それでも無効の場合は、相手チームにビュットを投げる権利が移ります。ただし、相手チームの投げたビュットが6mから10mの距離に止まっても、次のプレーでボールを最初に投げるのは、ジャンケンやトスなどで勝ったチームからです。

2 ビュットが6m～10mの距離に止まった後、引き続きAチームの中の1人が第1球目のボールを、できるだけビュットの近くに止まるように投げます。



[注 意] チーム内での投球順は自由。

3 次にBチームの1人が、Aチームのボールよりビュットに近づくように第1球目を投げます。両チームが1球ずつ投げ終えた後、どちらのボールがビュットにより近いかを測ります。ビュットに近いほうを優勢チームとし、逆に遠いほうを劣勢チームとします。事例ではAチームが優勢。

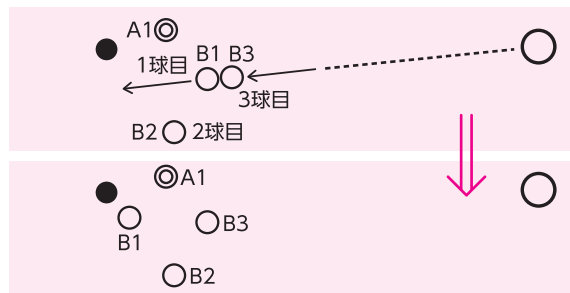


4 次に劣勢チーム (Bチーム) が、優勢チームのボールよりもビュットに近くなるまで投球を続けます。1球で近づかなければ、近づくまで次々と投げ続けます。事例ではBチームは2球目を投げましたが、ビュットからの距離がAチームのボールより遠いため、3球目も投げなければなりません。

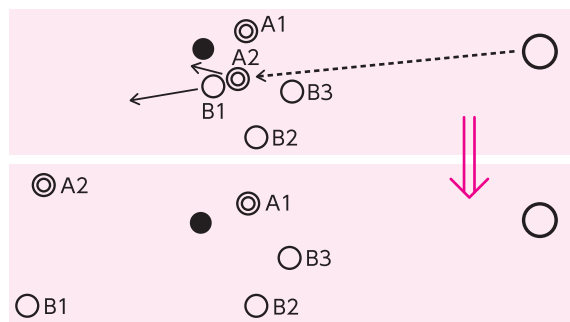


[注 意] こうして優勢チームは休み、劣勢チームが投球を続けますが、持ちボールはチーム当り6個しかないので劣勢チームはできるだけ少ない投数で逆転できるように投球することが大切です。

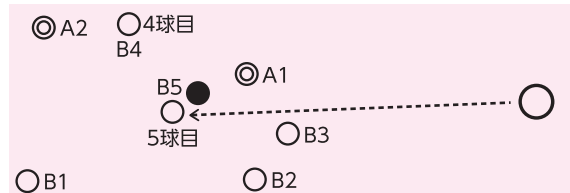
5 事例ではBチームの3球目が味方ボールを押して、その結果Bチームのボールがビュットに一番近くなり、逆転しています。



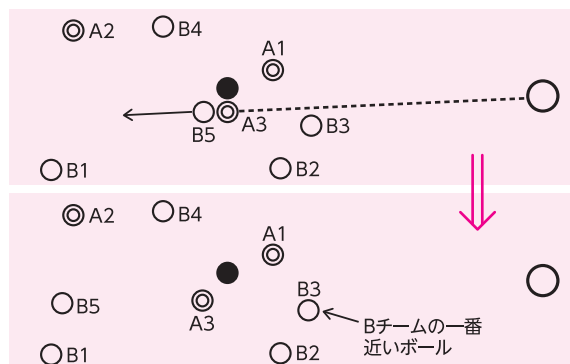
6 次は劣勢となったAチームがボール (事例では第2球目) を投げるようになります。Aチームが投げた結果、Bチームのビュットに一番近いボールに当たって (ティール=直接当てて弾くこと)、再度Aチームのボールの方がビュットに近づきました。



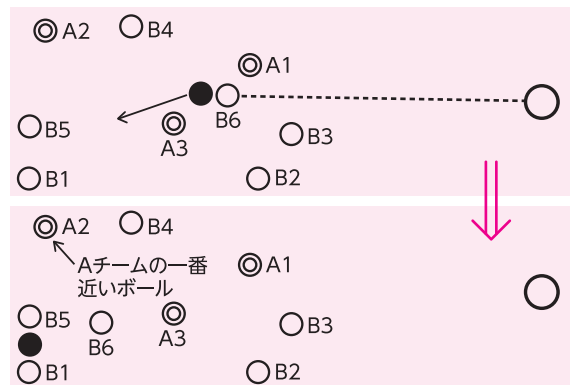
7 次に劣勢となったBチームがボールを投げます。第4球目は遠くに止まりましたが、第5球目がビュットの横で止まり、Bチームが優勢になりました。



8 次にAチームが3球目を投げます。結果、Bチームの一番近いボールをティールし、Bチームのボールは弾かれ、Aチームのボールがその場に残りました (=カロー)。Aチームが再逆転しました。

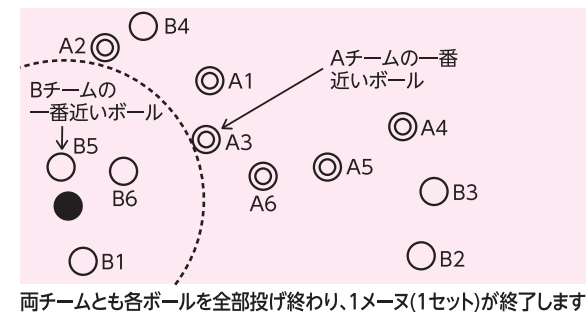


9 Bチームの6球目はビュットに当たり、ビュットが移動し、Bチームの近くで止まりました。またまたBチームの逆転です。

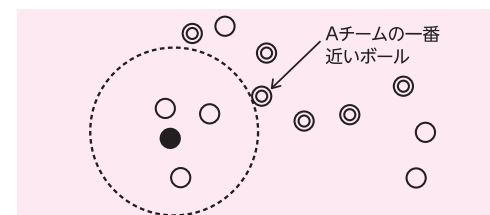


[注 意] ビュットが移動してもそのままプレーを続けます。

10 Aチームは残り3球を投げ終わりましたが、Bチームの一番近いボールよりも、ビュットに近づけませんでした。



11 第2メーヌは、Bチームが1メーヌ終了時のビュットを中心にサークルを描き (図)、そこからビュットを好きな方向へ投げ、開始します。



ビュットと、負けたチームのボールの中でビュットに1番近いボールを結んだ直線を半径とし、その円内にある勝ちチームのボールの数が点数となる。

勝敗と得点の数え方

味方チームのボールをビュットに1番近く配置させたチームの勝ち。得点は、負けたチームのボールの中でビュットに1番近いボールより、さらにビュットに近いところにある勝ちチームのボールの数で決めます。事例では1メーヌ目は0対3でBチームの勝ち。何度かメーヌを繰り返して、13点を先取したチームが、最終的に勝ちとなります。

【ペタンクスコアシート 記入例】

【例1】

チーム名		得点	チーム名	
選手名	選手名			
		1		
		2	✓	
		3	✓	
		4		
<hr/>				
		11		
		12	✓	
		13		
		13	スコア	12

得点を ✓ で加算していく。
13:12で
Aチームの勝ち

【例2】

チーム名		得点	チーム名	
選手名	選手名			
		1		
		2	2	
		3	3	
		4		
<hr/>				
		15	11	
		17	12	16
		18	13	
		18	スコア	12

メーヌ番号を入れて得点を加算していく。
第1メーヌ A3-0B
第2メーヌ A3-2B
第3メーヌ A3-3B
第16メーヌ A11-12B
第17メーヌ A13-12B
17メーヌ目に13:12で
Aチームの勝ち

場所: _____ 年 月 日

チーム名		得点	チーム名	
選手名	選手名			
		1		
		2		
		3		
		4		
		5		
		6		
		7		
		8		
		9		
		10		
		11		
		12		
		13		
		スコア		